

## DEEL 1 - VRAGEN 1-20

### ALGEMEEN EN BEPERKT STUURBREVET – 4 mei 2013

**Opmerking:** Tenzij anders vermeld hebben de vragen betrekking op het APSB.

#### Vragen 1-3



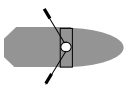

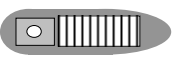

In de tabel staan verschillende verkeerssituaties afgebeeld. Geef telkens aan welk vaartuig voorrang heeft.

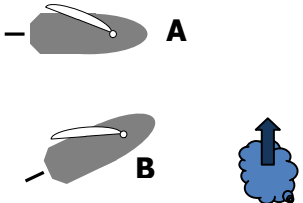

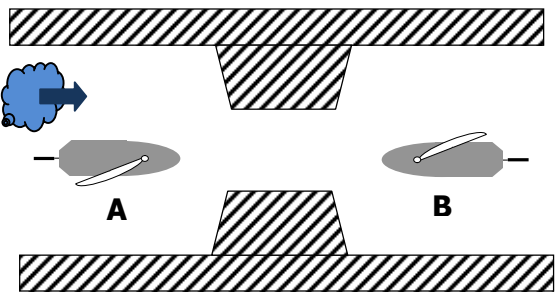
A = vaartuig A heeft voorrang

B = vaartuig B heeft voorrang

C = beide moeten uitwijken










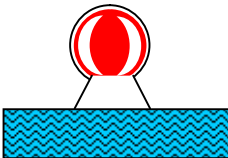
Verklaring van de gebruikte symbolen:

					
wind	klein zeilschip	kleine roeiboot	klein motorschip	groot motorschip	stroom

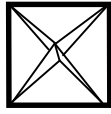
1.		<p>A</p> <p>B</p> <p>geen enkel schip volgt stuurboordwal</p>
2.		<p>A</p> <p>B</p> <p>geen enkel schip volgt stuurboordwal</p>
3.		<p>A</p> <p>B</p>

**Vragen 4-8**

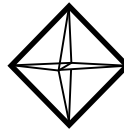
Wat betekent het volgende verkeersteken? Hou desgevallend rekening met de aangegeven scheepvaartweg.

<p>4. A. verboden voor alle verkeer B. verboden langs stuurboordwal te varen C. verboden te naderen op tegengestelde koersen en verboden voorbij te lopen</p>	
<p>5. A. aanbevolen doorvaartopening – verkeer uit de tegengestelde richting is toegestaan B. aanbevolen doorvaartopening – verkeer uit de tegengestelde richting is verboden C. midden van de vaargeul</p>	
<p>6. A. verplichting voor het bord stil te houden en een korte stoot geven B. verbod voorbij te varen C. geef één korte stoot</p>	
<p>7. A. verkeer slechts in één richting toegelaten B. verplichting voor het bord stil te houden C. verplichting bijzonder op te letten</p> <p><b>!!! ZEEKANAAL BRUSSEL-RUPEL !!!</b></p>	
<p>8. A. verplichting te varen in de richting van de pijl B. aanbeveling te varen in de richting van de pijl C. richting van de stroom in de vaarweg</p> <p><b>!!! GEMEENSCHAPPELIJKE MAAS !!!</b></p>	
<p>9. Welk topteken kan staan boven deze boei?</p> <div style="display: flex; justify-content: space-around; align-items: center;"> <div style="text-align: center;">  <p><b>A</b></p> </div> <div style="text-align: center;">  <p><b>B</b></p> </div> <div style="text-align: center;">  <p><b>C</b></p> </div> </div>	
<p>10. Op een brede waterweg ziet u een bolvormige boei, verticaal afwisselend rood en wit gestreept. U dient deze boei te passeren:</p> <p>A. aan bakboordzijde B. aan stuurboordzijde C. om het even welke zijde</p>	

11. Een radarreflector moet opgehangen worden zoals:



**A**



**B**

Om het even zo hoog mogelijk

**C**

12. Brandblussers moeten gekeurd worden:

- A. om de 2 jaar
- B. om de 5 jaar
- C. om de 10 jaar

13. Water is als blusmiddel enkel geschikt:

- A. voor A branden
- B. voor B branden
- C. voor A én B branden

14. Een goed afgestelde binnenboordmotor is op bedrijfstemperatuur. De kleur van de uitlaatgassen is:

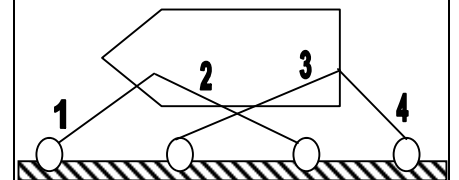
- A. lichtblauw
- B. zwart
- C. kleurloos

15. Een brand vereist 3 elementen: een brandbare stof, onstekingstemperatuur en:

- A. stikstof
- B. zuurstof
- C. kooldioxide

16. Hoe heet de lijn die met het cijfer 4 is aangeduid op de figuur?

- A. voorspring
- B. achterspring
- C. achtertros



17. Het is windstil. Uw motorschip heeft een linkse schroef en u vaart achteruit. Wat stelt u vast?

- A. het voorschip draait naar stuurboord
- B. het achterschip trekt naar bakboord
- C. het achterschip trekt naar stuurboord

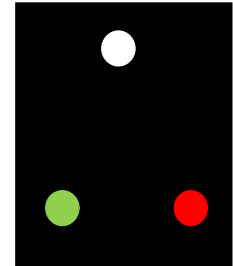
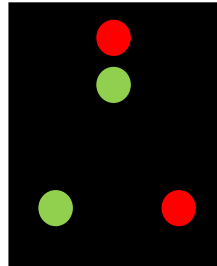

18. Een zeilschip dat overdag ook op hulpmotor vaart, moet als dagteken voeren:



19. De minimum leeftijd om een pleziervaartuij op de Belgische binnenwateren te besturen, voor een pleziervaartuij dat sneller dan 20 km/h kan varen is:

- A. 16 jaar
- B. 18 jaar
- C. 21 jaar

20. Een zeilschip gebruikt zijn hulpmotor.  
Welke lichten moet het voeren? (vooraanzicht)



**DEEL 2 - VRAGEN 21-40****BIJKOMENDE VRAGEN TOT HET BEKOMEN VAN HET ALGEMEEN STUURBREVET**

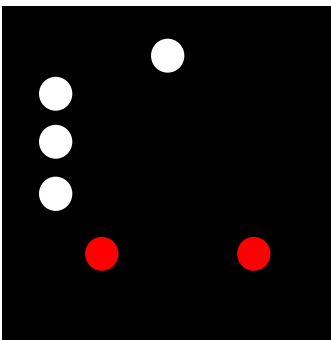


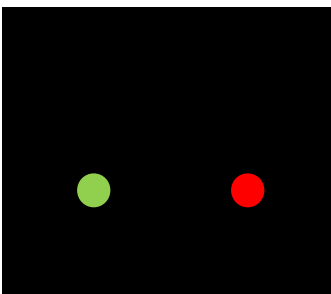
In navolgende vragen zijn de woorden "schip" en "vaartuig" synoniem.

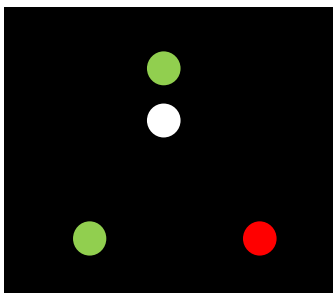
**Vragen 21-25**

Geef bij onderstaande figuren aan over welk schip (of welke schepen) het gaat. Kies steeds het meest volledige antwoord. Hou ook rekening met het aanzicht of bijkomende specificaties en het toepassingsgebied (2de kolom).

L sleep = lengte van de sleep

L sleper = lengte van de sleper

21.		volle zee	<p>A. L sleper &lt; 50m en L sleep &lt; 200m          B. L sleper &gt; 50m en L sleep &lt; 200m          C. L sleper &gt; 50m en L sleep &gt; 200m</p>
22.	 <p>geel schitterlicht</p>	volle zee	<p>A. loodsvaartuig          B. politievaartuig          C. luchtkussenvaartuig</p>
23.	 <p>dagteken</p>	volle zee	<p>A. ten anker liggend vaartuig          B. vaartuig dat aan de grond zit          C. vaartuig bezig met duikwerkzaamheden</p>
24.		volle zee	<p>A. vissersvaartuig (niet varend)          B. zeilvaartuig (niet varend)          C. zeilvaartuig (varend)</p>

25.		Beneden-Zeeschelde	A. zeilschip langer dan 20m B. bovenmaats zeeschip C. schip bezig met visserij
-----	---	--------------------	--

### **INTERNATIONALE BEPALINGEN TER VOORKOMING VAN AANVARINGEN OP ZEE**

26.	Een schip dat de richting van een nauwe vaargeul volgt, moet voor zover het veilig en uitvoerbaar is:
	A. de buitenzijde van de vaargeul aan zijn stuurboordzijde houden B. de buitenzijde van de vaargeul aan zijn bakboordzijde houden C. de aslijn van de vaargeul volgen
27.	Een varend motorschip dient bij beperkt zicht met tussenpozen van niet meer dan 2 minuten het volgende geluidsein te geven:
	A. korte stoot B. lange stoot C. twee lange stoten
28.	Een varend werktuiglijk voortbewogen vaartuig, korter dan 50m, moet als lichten voeren:
	A. zijlichten en toplicht B. zijlichten, toplicht en heklicht C. zijlichten, twee toplichten (het tweede achter en hoger dan het eerste) en heklicht
29.	Wat betekent de uitdrukking "beperkt zicht"?
	A. elke situatie waarbij het zicht minder is dan twee zeemijlen B. elke situatie waarin het zicht beperkt wordt door mist, nevelig weer, sneeuwval, zware regenbuien, zandstormen of andere soortgelijke oorzaken C. dit begrip wordt niet nader omschreven in dit reglement

### **SCHEEPVAARTREGLEMENT BENEDEN ZEESCHELDE**

30.	Een klein schip is korter dan:
	A. 15 m B. 20 m C. 24 m
31.	Schip X ligt ten anker. Schip Y zit aan de grond en schip Z ligt gemeerd. Welk schip is "varend"?
	A. alleen schip Y B. schip X C. geen van de drie schepen

32. Het voorschrift zich uit de vaargeul verwijderd te houden, waar dit uitvoerbaar is, geldt voor:
- A. een zeilschip
  - B. een schip met een lengte van minder dan 20m
  - C. een schip met een lengte van minder dan 12m

### **POLITIERGELEMENT BENEDEN ZEESCHELDE**

33. Mogen gemeerde schepen een anker aan de zijde van het vaarwater uit hebben?
- A. ja
  - B. nee
  - C. ja, na toestemming van de overheid

### **REGLEMENT KANAAL GENT-TERNEUZEN**

34. De voorrangsbepalingen ten opzichte van andere varende schepen (behoudens bij oplopen) voor volgende schepen:
- X bovenmaats zeeschip
  - Y onmanoeuvrerbaar schip
  - Z beperkt manoeuvrerbaar schip
- zijn als volgt, waarbij het schip met de meeste voorrang vooraan staat:
- A. X Y Z
  - B. Y Z X
  - C. Y X Z

35. Voor kleine schepen is het voeren van een deugdelijke radarreflector:
- A. niet verplicht
  - B. altijd verplicht
  - C. enkel verplicht bij slecht zicht

### **REGLEMENT TERRITORIALE ZEE, KUSTHAVENS EN STRANDEN**

36. Wat betekent dit teken in de haven van Zeebrugge?
- A. verbod om uit te varen voor alle pleziervaartuigen
  - B. verbod om uit te varen voor pleziervaartuigen met lengte < 6m
  - C. verbod om uit te varen uitsluitend voor roeiboten



### **METEOROLOGIE**

37. Bij een krimpwind
- A. neemt de kracht van de wind af
  - B. verandert de richting van de wind tegen de wijzers van de klok in
  - C. verandert de richting van de wind met de wijzers van de klok mee

38. Lucht koelt af wanneer ze
- A. stijgt
  - B. daalt
  - C. zich horizontaal verplaatst met grote snelheid

**GETIJDEN**

39. Zowel de zon als de maan hebben invloed op het getijde op de aarde. De invloed is:
- A. het grootst van de maan
  - B. het grootst van de zon
  - C. evenveel zowel van zon als maan

**NAVIGATIE**

40. Als er geen drift en stroom is, dan is de ware koers:
- A. kleiner dan de ware koers over de grond
  - B. gelijk aan de ware koers over de grond
  - C. groter dan de ware koers over de grond



1	<b>A</b>	B	C	16	A	B	<b>C</b>	31	A	B	<b>C</b>
2	<b>A</b>	B	C	17	A	B	<b>C</b>	32	A	B	<b>C</b>
3	<b>A</b>	B	C	18	<b>A</b>	B	C	33	A	<b>B</b>	C
4	A	B	<b>C</b>	19	A	<b>B</b>	C	34	A	B	<b>C</b>
5	<b>A</b>	B	C	20	A	B	<b>C</b>	35	A	<b>B</b>	C
6	A	B	<b>C</b>	21	A	B	<b>C</b>	36	A	<b>B</b>	C
7	A	B	<b>C</b>	22	A	B	<b>C</b>	37	A	<b>B</b>	C
8	<b>A</b>	B	C	23	<b>A</b>	B	C	38	<b>A</b>	B	C
9	A	<b>B</b>	C	24	A	B	<b>C</b>	39	<b>A</b>	B	C
10	A	B	<b>C</b>	25	A	B	<b>C</b>	40	A	<b>B</b>	C
11	<b>A</b>	B	C	26	<b>A</b>	B	C				
12	<b>A</b>	B	C	27	A	<b>B</b>	C				
13	<b>A</b>	B	C	28	A	<b>B</b>	C				
14	A	B	<b>C</b>	29	A	<b>B</b>	C				
15	A	<b>B</b>	C	30	A	<b>B</b>	C				